

MERUVAMBAYI M U P SCHOOL

MATHS WORKSHENET

STD-4

ഹായ് കൂട്ടുകാരെ എല്ലാവർക്കും നമസ്കാരം.

എല്ലാവർക്കും സുഖമല്ലേ?

നമ്മുടെ ഇന്നലത്തെ ഗണിതത്തിലെ ക്ലാസ് എല്ലാവരും കണ്ടല്ലോ?

ടീച്ചർ പറഞ്ഞ കഥ ഓർമ്മയില്ലേ?

അതിനെ ആമിനയും, അപ്പുവും, മാളുവും, ടോണിയും ഒക്കെയായി നല്ല വിശേഷം ആയിരുന്നു. സൈക്കിൾ വാങ്ങാൻ പോയത് നല്ല രസമായിരുന്നു അല്ലേ കൂട്ടുകാരെ. ഇതിനിടയ്ക്ക് ആമിനയുടെ സ്കൂളിൽ കായിക മത്സരം ഉണ്ടായിരുന്നു. ടീച്ചർ ചില ചുമതലകൾ ആമിനയേയും കൂട്ടുകാരെയും ഏൽപ്പിച്ചു. ചെസ്സ് നമ്പർ എഴുതാനുള്ള ചുമതല ആമിനയ്ക്ക് നൽകിയത്.

എഴുതാനായി ടീച്ചർ എന്തോ ഒന്ന് ആമിനയ്ക്ക് നൽകി. എന്തായിരുന്നു അത്?

കാർഡുകൾ

ആദ്യത്തെ ചെസ്സ് നമ്പറും ടീച്ചർ എഴുതി നൽകി. ഏതായിരുന്നു അത്?

1000 അല്ലേ

ആകെ എത്ര കുട്ടികൾ ആയിരുന്നു ഓട്ട മത്സരത്തിൽ പങ്കെടുക്കാൻ ഉള്ളത്?

അതെ 13 കുട്ടികൾ

ഇനി നമുക്ക് നമ്പർ എഴുതാം

ആയിരം കഴിഞ്ഞുള്ള 13 നമ്പറുകൾ എഴുതി ടീച്ചർക്ക് നൽകണം.

- $1000+1=1001$

ഇങ്ങനെയല്ലേ

നമുക്ക് ആമിനയും കൂട്ടുകാരെയും ഒന്ന് സഹായിച്ചാലോ?

എല്ലാവരും റെഡി അല്ലേ?










കൂട്ടുകാർ ഒന്ന് ശ്രദ്ധിക്കണം.

തന്നിരിക്കുന്ന സംഖ്യയുടെ കൂടെ ഒന്നു കൂട്ടിയാൽ തൊട്ടടുത്ത സംഖ്യ കിട്ടും

പ്രവർത്തനം 1

അതുപോലെ ആയിരം കഴിഞ്ഞുള്ള 13 നമ്പറുകൾ എല്ലാവരും എഴുതു..

1000



പ്രവർത്തനം 2

സ്ഥാനവില കണ്ടെത്തി പട്ടിക പൂർത്തിയാക്കാം

സംഖ്യകൾ	ആയിരം	നൂറ്	പത്ത്	ഒറ്റ
1020				
1021				
1022				
1023				
1024				
1025				
1026				

പ്രവർത്തനം 3

അപ്പുവിനെ അക്കത്തിലും അക്ഷരത്തിലും എഴുതാൻ സഹായിക്കാമോ

1026 മുതൽ ആയിരത്തി 30 വരെയുള്ള സംഖ്യകൾ അക്കത്തിലും അക്ഷരത്തിലും എഴുതുക

പ്രവർത്തനം 4

വീട്ടിലൊരു ഗണിതലാബ് തയ്യാറാക്കൂ..

ടീച്ചർ പറഞ്ഞ പോലെ സ്വന്തമായി ഒരു സ്ഥാന വില പോക്കറ്റ് നിർമ്മിക്കുക.

എല്ലാവരും പ്രവർത്തനങ്ങൾ ചെയ്ത് ടീച്ചർക്ക് അയച്ചുതരിക